

**0006**

**Deodorant**

<b>Autor</b>	<b>Kontakt</b>	<b>Zielgruppe</b>
Reiner Speicher	<a href="mailto:speicherr@aol.de">speicherr@aol.de</a>	Ab Klassenstufe 7.

<b>Kompetenzen</b>	<b>Leitidee</b>	<b>Anforderungsbereich</b>
K1 / K4	L4	II

**Lernvoraussetzungen**

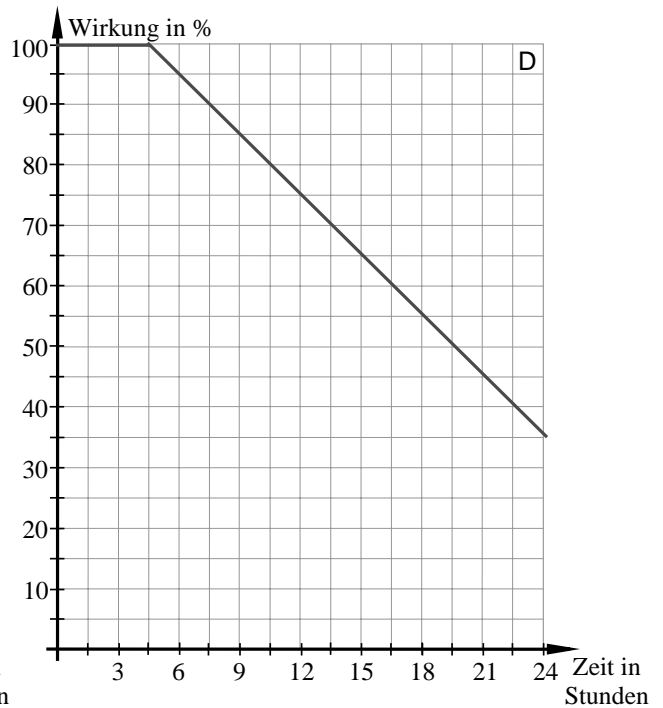
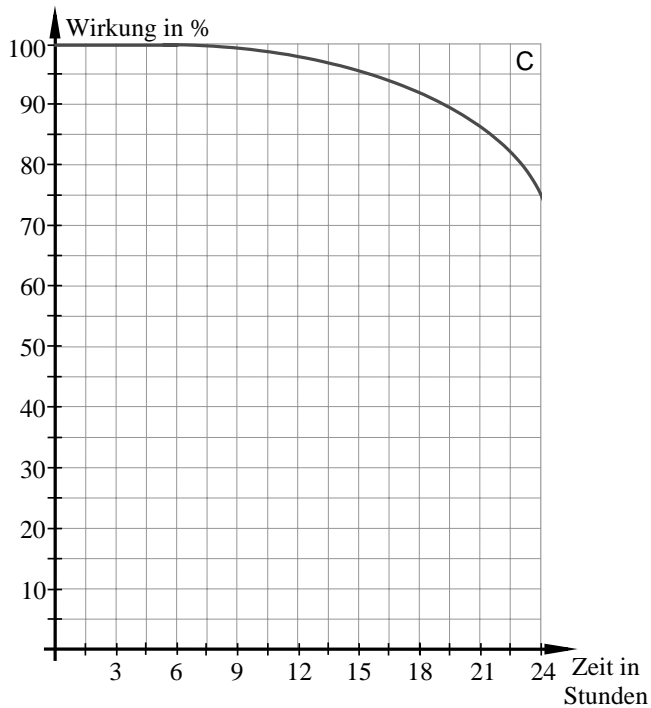
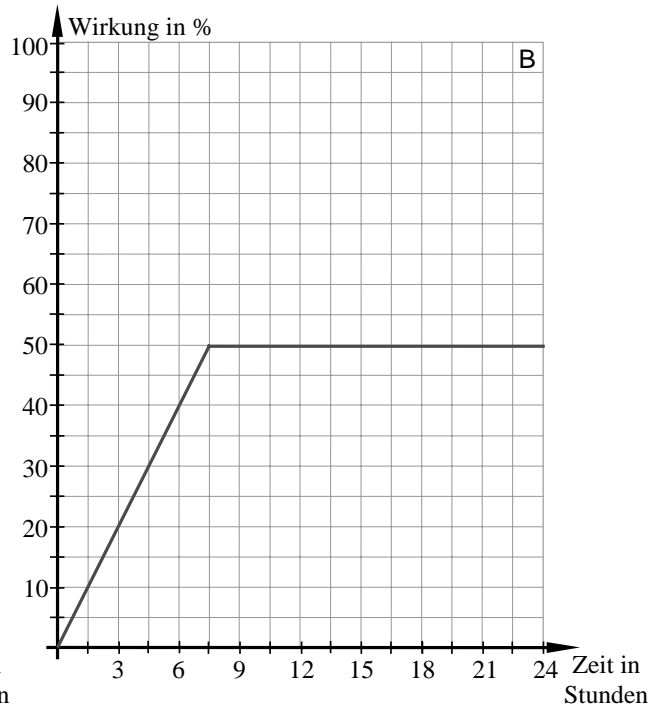
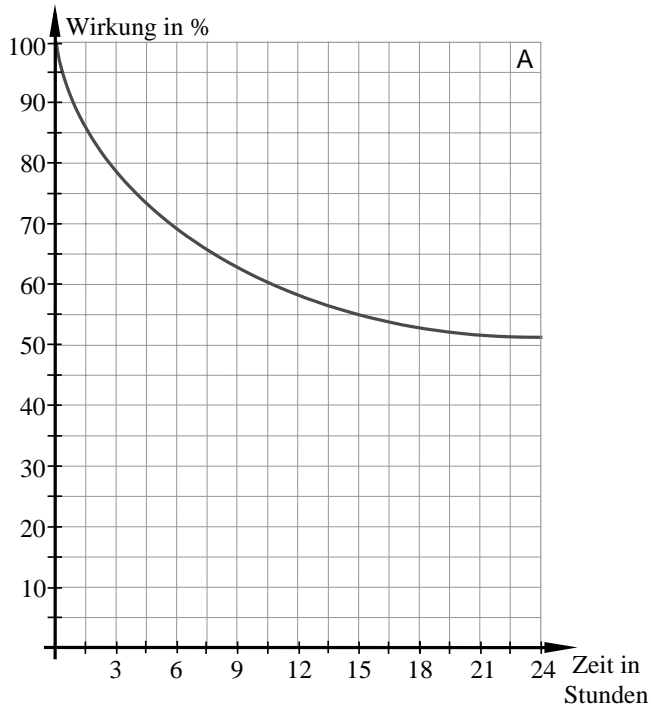
Schaubild und Koordinatensystem.

## Deodorant

„Sicherheit für mindestens 6 Stunden!“

Mit dieser Aufschrift wirbt ein neues Deodorant beim Käufer.

Welches der folgenden Schaubilder kommt dem Werbeslogan am nächsten? Begründe deine Entscheidung.



Lösungserwartungen / methodisch-didaktische Hinweise	Anforderungsbereiche		
	I	II	III
<p>Es handelt sich um das Schaubild C.</p> <p>Begründung: Das Schaubild C zeigt, dass das Deodorant mehr als 6 Stunden eine 100 %-ige Wirkung hinterlässt, danach verringert sich die Wirkung mit zunehmender Zeit.</p>		<p>K4 / L4</p> <p>K1 / L4</p>	